

# Lumea la firul ierbii



1. Completează șirul de cuvinte, după model:

albină  
albine

muscă  
-----


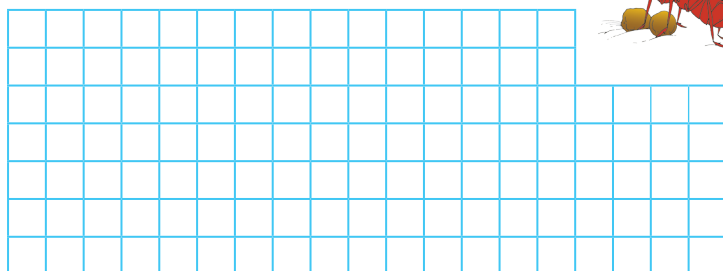
libelulă  
-----

țânțar  
-----

furnică  
-----




fluture  
-----

2. Furnicile se îndreaptă în șir spre mușuroi, având-o pe Rica drept conducător. Coloana este încheiată de Hărnicuța. Știind că Anty este a cincisprezecea furnică de la Rica și a unsprezecea de la Hărnicuța, află câte furnici sunt în șir.




3. Află pe ce floare se va așeza fiecare insectă, știind că:

- buburuza alege cel mai mic număr par de două cifre;
- fluturile alege cel mai mare număr impar de două cifre distincte;
- albina alege cel mai mic număr impar cuprins între 55 și 60.








Floppy tânjește după răcoarea din Pădurea Verde, însă nu știe care este drumul corect. Ajută-l să rezolve următoarele exerciții, pentru a găsi calea spre pădure.

**14.** Pentru a aranja cuvintele următoare într-o propoziție, libelula Lulu zboară de pe o ciupercă pe alta. Numerotează ciupercile pentru a arăta drumul parcurs de Lulu. Scrie propoziția corect, pe spațiul de mai jos.

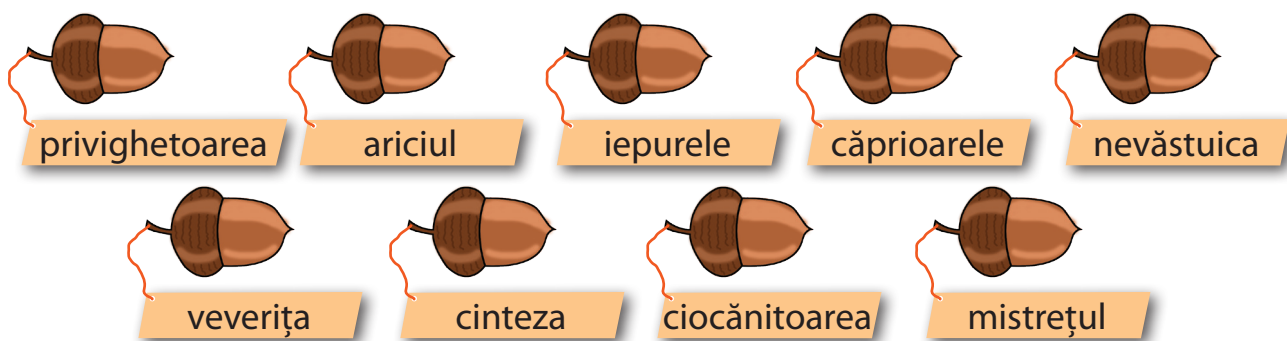



Blank handwriting lines for writing the correct sentence.

**15.** Insectele s-au oprit din zbor pentru a se odihni. Află ce număr ascunde fiecare, știind că într-un pătrat magic suma numerelor pe linie, coloană și diagonală este aceeași.

2		6
	5	
		8

3. Veverițele sortează ghindele, în funcție de numărul de silabe al cuvintelor notate pe ele. Dă-le o mână de ajutor, scriind cuvintele în casete.



4. Rezolvă operațiile de mai jos. Înlocuiește fiecare număr obținut cu cifra corespunzătoare. Folosește indiciile pentru a descoperi animalul misterios.

$\begin{array}{r} 62+ \\ 18 \\ \hline 80 \end{array}$	$\begin{array}{r} 71- \\ 24 \\ \hline \end{array}$	$\begin{array}{r} 16+ \\ 48 \\ \hline \end{array}$	$\begin{array}{r} 25+ \\ 25 \\ \hline \end{array}$	$\begin{array}{r} 60- \\ 16 \\ \hline \end{array}$	$\begin{array}{r} 75+ \\ 25 \\ \hline \end{array}$	$\begin{array}{r} 91- \\ 18 \\ \hline \end{array}$	$\begin{array}{r} 37+ \\ 9 \\ \hline \end{array}$	$\begin{array}{r} 90- \\ 39 \\ \hline \end{array}$	$\begin{array}{r} 63+ \\ 28 \\ \hline \end{array}$	$\begin{array}{r} 82- \\ 13 \\ \hline \end{array}$
F	Ă	O	U	I	M	R	P	A	E	D

5. Floppy e în bucătărie. Urmărește ceasurile și scrie ora la care a început și ora la care a terminat de gătit fiecare fel:



Pâinea a fost pusă la cuptor la ora  , iar la ora   era coaptă.

Coacerea a durat  ore.



Friptura a stat la cuptor de la ora   până la ora  .

Ea s-a copt în  ore.



Piftia de gâscă a fiert de la ora   până la ora  .

Fierberea a durat  ore.



Tarta cu fructe a stat în cuptor de la ora   până la ora  .

A fost gata în  ore.

6. Ghicește despre ce preparat este vorba.

**Bucăți:** 10

**Timp de preparare:** 45 de minute

**Mod de preparare**

1. Amestecați 100 grame de făină cu 2 ouă și o cană de lapte.
2. Bateți bine cu telul sau mixerul, astfel încât să obțineți o compoziție fără cocloașe.
3. Adăugați treptat încă o cană de lapte, 25 de grame de unt topit și un vârf de cuțit de sare.
4. Bateți până obțineți o compoziție subțire.
5. Prăjiți câte un polonic de compoziție într-o tigaie cu fundul gros.
6. Întoarceți după 40-60 secunde, apoi mai lăsați-le încă 30-40 secunde.
7. Așezați foile pe o farfurie și acoperiți-le cu un capac.

Este o rețetă de \_\_\_\_\_.